

### FICHA: NECESITO ALIMENTO

1. ¿De dónde proceden los alimentos?

.....

2. ¿Qué necesitan las plantas que cultivamos para obtener alimentos?

.....

.....

.....

.....

3. ¿Qué necesitan las plantas para reproducirse y para formar los frutos?

.....

.....

.....

4. ¿Qué necesitan los animales para vivir?

.....

.....

.....

5. Para poder comer diferentes tipos de verduras, frutas, carnes y pescados, ¿qué necesitamos?

.....

.....

.....

.....

.....



### FICHA: NECESITO ALIMENTO

#### Prueba matemática:

Juan y Julia son vecinos y los dos tienen un huerto del mismo tamaño. A Juan le gusta plantar los árboles a una distancia de 50 cm entre árbol y árbol. Julia prefiere plantarlos dejando 0,6 metros entre árbol y árbol.

**¿Quién planta los árboles más juntos?**



.....

.....


.....

.....

.....

.....

.....



### FICHA: NECESITO AGUA

1. ¿Qué ciclo es imprescindible para que el agua esté continuamente circulando en la Tierra?

.....

.....

.....



#### Prueba matemática:

Mario no tiene grifo en su casa y suele recoger el agua de la lluvia colocando 4 botellas de un cuarto de litro en el jardín. Si cada persona necesita mínimo 50 litros de agua al día para beber, cocinar, ducharse, etc. **¿Cuántas botellas necesitaría Mario para recoger 50 litros de agua?**

.....



4 botellas de cuarto de litro

### FICHA: NECESITO DESCANSO

1. ¿Qué nos puede ofrecer la naturaleza para nuestro descanso y relajación?

.....

.....

.....

.....

.....

.....

.....

.....

2. ¿Qué necesitamos para dormir?

.....

.....

.....

.....

.....

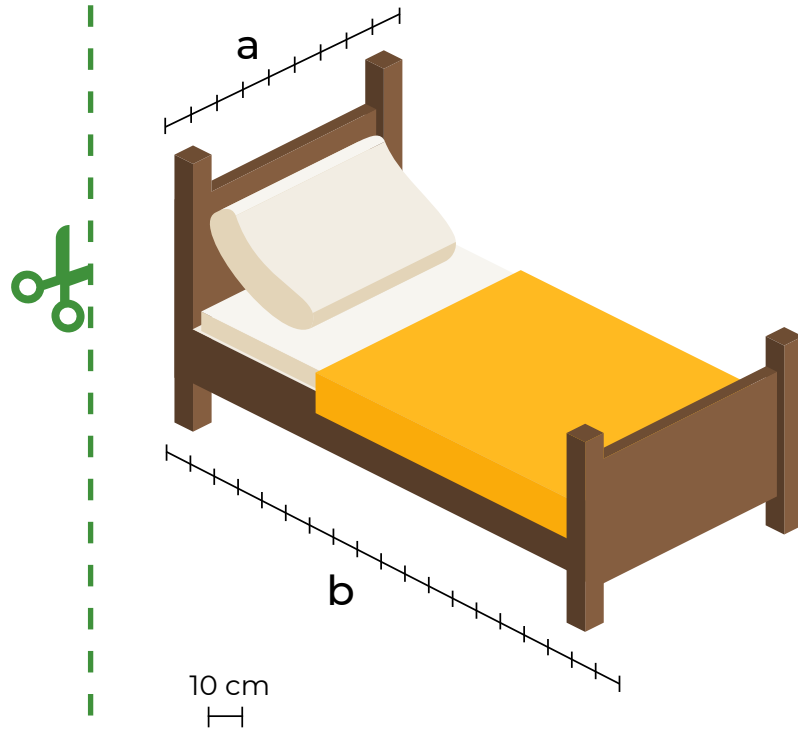
.....

.....

.....



FICHA: NECESITO DESCANSO



Prueba matemática:

1. ¿Cuántos cm mide la cama de largo?

.....

2. ¿Y de ancho?

.....

Ahora expresa los resultados en metros.

▪ Largo: .....

▪ Ancho: .....

### FICHA: NECESITO OCIO

1. ¿Dónde podemos realizar actividades de ocio?

.....

.....

.....

.....

.....

.....

.....

.....

2. Nombra ejemplos de objetos para el ocio

.....

.....

.....

.....

.....

.....

.....

.....



### FICHA: NECESITO OCIO

Prueba matemática:

1. ¿Cuánto pesa cada muñeca?

.....

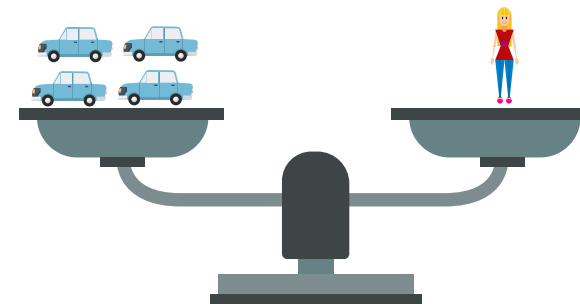
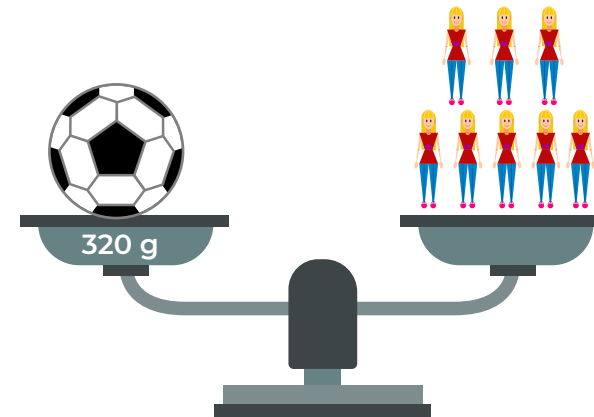
2. ¿Cuánto pesa cada coche?

.....

Expresa el peso también en kg.

▪ Muñeca: .....

▪ Coche: .....



### FICHA: NECESITO SALUD

1. ¿De dónde vienen las medicinas?

.....

.....

.....

.....

3. ¿Cómo debe ser el aire que respiramos?

.....

.....

.....

.....

.....

.....

.....

2. ¿Cómo adquirimos el conocimiento sobre las medicinas?

.....

.....

.....

.....





### FICHA: NECESITO SALUD

#### Prueba matemática:

A Laura le gusta pasear por el bosque que hay al lado de su pueblo para respirar aire puro. Antes estaba muy cerca, pero ahora han utilizado un trozo de bosque para construir un centro comercial y para llegar a él necesita caminar 820 m.

**Expresa esta medida en las siguientes unidades:**

mm: .....

dam: .....



### FICHA: NECESITO DEPORTE

1. Nombra algunos ejemplos de materiales necesarios para hacer deporte.

.....

.....

.....

2. ¿Dónde podemos realizar deportes como correr, montar en bici, escalar, bucear o jugar al fútbol?

.....

.....

.....

.....

#### Prueba matemática:

Mi hermana y yo hemos salido a hacer deporte al campo. Ella iba en bicicleta y ha recorrido 16 km. En el mismo tiempo yo he recorrido 8 km corriendo.

**¿Cuántos metros me quedan por correr para llegar a donde está mi hermana?**

.....



### FICHA: NECESITO ROPA

- ¿De dónde viene el material necesario para fabricar la ropa que uso?

.....

.....

.....

.....

#### Prueba matemática:

Mis pantalones miden 80 cm de largo. Yo mido 1,27 m de altura, mi hermana mide 1,15 m. Mi hermana es más baja que yo  
**¿Cuántos cm exactamente?**

.....

Si recorto estos centímetros a mi pantalón para que le sirva a mi hermana,  
**¿cuánto medirá el pantalón?**

.....

